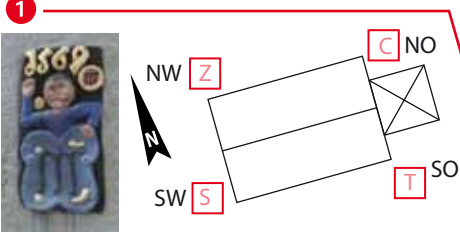



An welcher Ecke der **Kirche** ist eine Männchen-Figur in der Wand abgebildet?



Altstadtlädchen Welche Eismarke bietet das **Altstadtlädchen** an?



Welche Haarfarben haben Didi und Dodo von der **Sparkassen** Kinderzeitschrift Knax?



Welches Symbol gehört zu der **Apotheke**?



WarneBäcker Zieseniß Welches **Brotkörbchen** steht im Schaufenster?




Wie viele Salzhaken hält der **Hotze** in seinen Händen?



- N 1
- W 2
- D 3

Welche Fließgeschwindigkeit hat die **Lamme**?



An welchem der vier Häuser befindet sich eine **Sonnenuhr**?



- Ä
- Ü

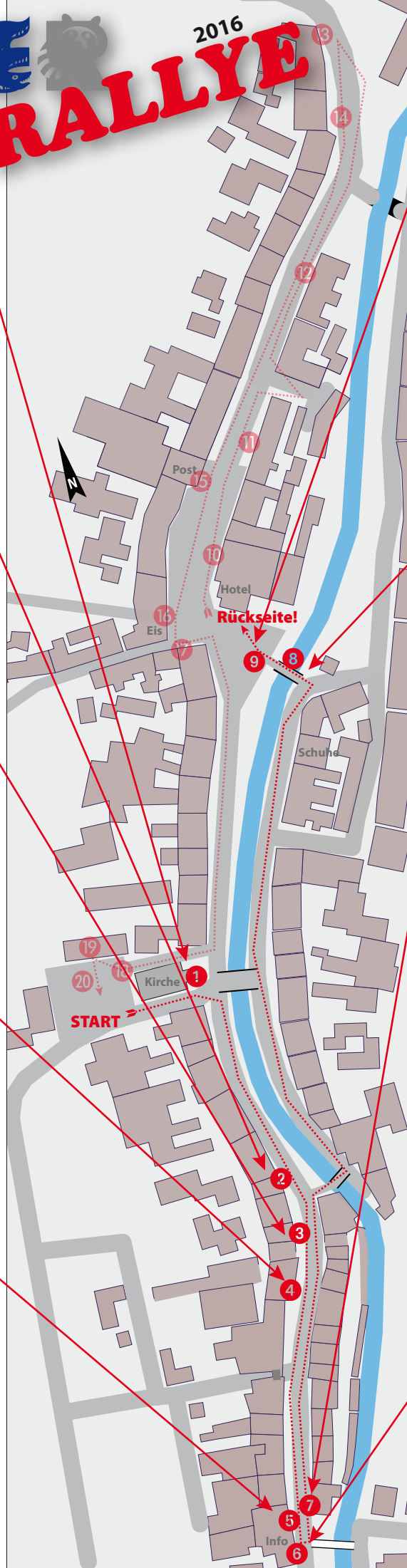


- Ö
- X

In welchem Jahr wurde die **Tageszeitung** erstmals herausgegeben?



- V 1507
- W 1057
- F 1705



KINDER RALLYE



Welcher der beiden Planeten **Merkur** und **Venus** ist größer?

- 14
- J Merkur > Venus
 L Venus > Merkur
 „>“ bedeutet: „ist größer als“



Welchen **Postwert** hat diese Briefmarke?

- 15
- T 70 ct
 D 145 ct
 R 240 ct



Wie viele **blaue Schmetterlinge** sind auf den Glasscheiben abgebildet?

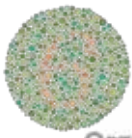
- 16
- A 33
 E 34
 I 35
 U 36

Eis-Café Dolce Vita



Welche 4 Zahlen sind auf den **Farbtest-Bildern** im Schaufenster abgebildet?

- 17
- K 12, 43, 16, 32
 T 1, 45, 15, 35
 R 1, 48, 16, 33
 H 12, 42, 15, 38



OPTIK PLUGGE

In welches Gebäude soll das **Bergbau-Museum** eventuell ausweichen?

- 18
- E Ex Schlecker
 U Am Papenberg
 A Saline
 I Gildehaus



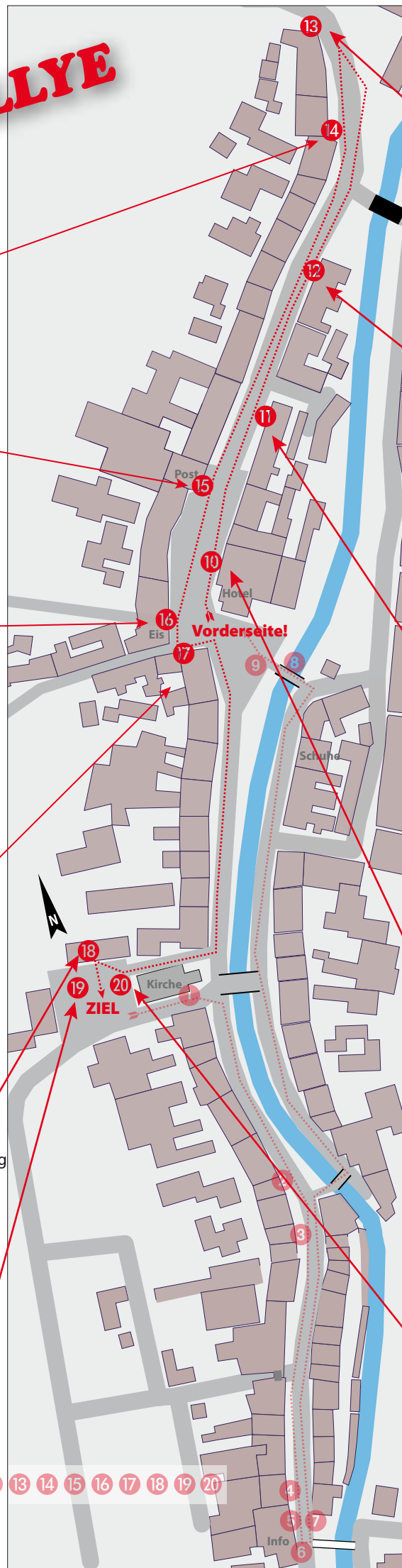
Welche **Sportart** der SV Eintracht wird ohne Ball betrieben?

- 19
- A
 E
 U
 I

Lösungswort
 Die richtigen Antworten ergeben in Reihenfolge der Aufgaben:

1 2 3 4 5 6 7 8 9 10 11 12 13 14 15 16 17 18 19 20

Idee & Realisation: Niklas Möller, nimoe@gmx.de,
 Bad Salzdetfurth, 02. Oktober 2016



Welche **Rad- und Wanderwege** führen durch die Altstadt?

- 13
- E R1, R2 und R3
 I R5, R6 und R7
 U R7, R8 und R9



Wie heißt das neue **Cafe**?

- 12
- T ikona
 P onaki
 W akoni
 G aniko



Über der Tür von welcher **Hausnummer**, befindet sich diese Inschrift?

- 11
- K 98
 T 99
 R 100



Wie viele **Stufen** führen (auf einer Seite der Treppe) zum Hotel Kronprinz?

- 10
- E 16 Stufen
 A 18 Stufen
 I 20 Stufen



Wie viele **Eingänge** hat die Kirche?

- 20
- C Einen
 Z Zwei
 S Drei
 V Vier

